



Feuille de route

Nom de l'équipe :

Chaque équipe doit remplir pour chaque étape : la ville et le pays dans lesquels se trouve le message, le nom du monument en face duquel il se trouve, le mathématicien concerné (avec ses dates de vie) ainsi que la réponse aux énigmes.

Cette feuille de route est à remettre complétée en fin de partie.

L'équipe qui trouvera le plus de réponses correctes à la fin des deux heures sera déclarée gagnante.


Etape n°1			
Malaisie	Kuala Lumpur	LFKL	3° 10' 43 N 101° 39' 13 E
Personnage :			

Etape n°2			
Pays	Ville	monument	coordonnées


Etape n°3			
Pays	Ville	monument	coordonnées
Enigme 5° & 6° :		Enigme 4° & 3° :	

Etape n°4			
Pays	Ville	monument	coordonnées
Enigme 5° & 6° :		Enigme 4° & 3° :	
Mathématicien :			


Etape n°5

Pays	Ville	monument	coordonnées
Enigme 5° & 6° :		Enigme 4° & 3° :	
Mathématicien :			
			

Etape n°6

Pays	Ville	monument	coordonnées
Enigme 5° & 6° :		Enigme 4° & 3° :	
Mathématicien :			
			

Etape n°7

Pays	Ville	monument	coordonnées
Enigme 5° & 6° :		Enigme 4° & 3° :	
Mathématicien :			
			

Etape n°8

Pays	Ville	monument	coordonnées
Enigme 5° & 6° :		Enigme 4° & 3° :	
Mathématicien :			


Etape n°9

Pays	Ville	monument	coordonnées
Enigme 5° & 6° :		Enigme 4° & 3° :	
Mathématicien :			


Etape n°10

Pays	Ville	monument	coordonnées
Enigme 5° & 6° :		Enigme 4° & 3° :	
Mathématicien :			

Etape n°11

Pays	Ville	monument	coordonnées
Enigme 5° & 6° :		Enigme 4° & 3° :	
Mathématicien :			
			

Etape n°12

Pays	Ville	monument	coordonnées
Enigme 5° & 6° :		Enigme 4° & 3° :	
Mathématicien :			
			

Etape n°13

Pays	Ville	monument	coordonnées
Enigme 5° & 6° :		Enigme 4° & 3° :	
Mathématicien :			

Etape n°14

Pays	Ville	monument	coordonnées
Enigme 5° & 6° :		Enigme 4° & 3° :	
Mathématicien :			

Etape n°15

Pays	Ville	monument	coordonnées
Enigme 5° & 6° :		Enigme 4° & 3° :	
Mathématicien :			

Etape n°16

Pays	Ville	monument	coordonnées
Enigme 5° & 6° :		Enigme 4° & 3° :	
Mathématicien :			



Où se trouve le trésor ?