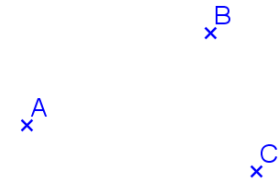


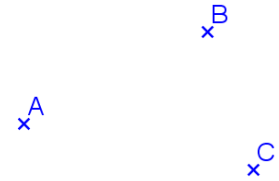
b) Avec un compas.

Construit le point D pour que ABCD soit un parallélogramme.



c) Avec des parallèles.

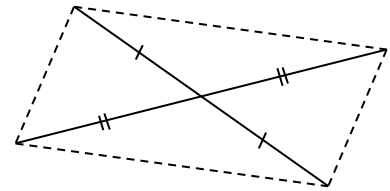
Construit le point D pour que ABCD soit un parallélogramme.



IV. Critères de reconnaissance d'un parallélogramme.

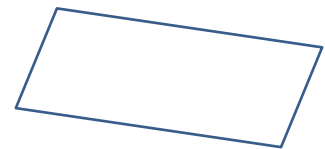
a) Par ses diagonales.

Propriété \_\_\_\_\_  
Si un quadrilatère a ses ..... alors on peut affirmer que c'est un .....

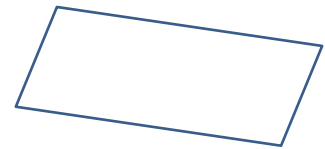


b) Par ses côtés.

Propriété \_\_\_\_\_  
Si un quadrilatère a ses ..... alors on peut affirmer que c'est un .....



Propriété \_\_\_\_\_  
Si un quadrilatère a ses ..... alors on peut affirmer que c'est un .....



Propriété \_\_\_\_\_  
Si un quadrilatère a ses ..... alors on peut affirmer que c'est un .....

